

1

N

Младшая группа – 1 класс

1	2	3	4	5	6	7	8	ИТОГ

БЛАНКА ЗА ОТГОВОРИ

Име _____ Фамилия _____

Клас _____ Училище _____

ОТГОВОРИ:


Задача 1. П – О = Б – Е = Д – И = Т + Е = Л + И

Отг.: – = – = – = + = +

Задача 2. Отг.: Червеният има _____ ореха, зеленият _____ ореха, синият _____ ореха.

Задача 3. Отговор:

Покажете къде трябва да уцели Прасчо




Задача 4. Отговор:

Елена има _____ ленти.

Задача 5. Отг.:



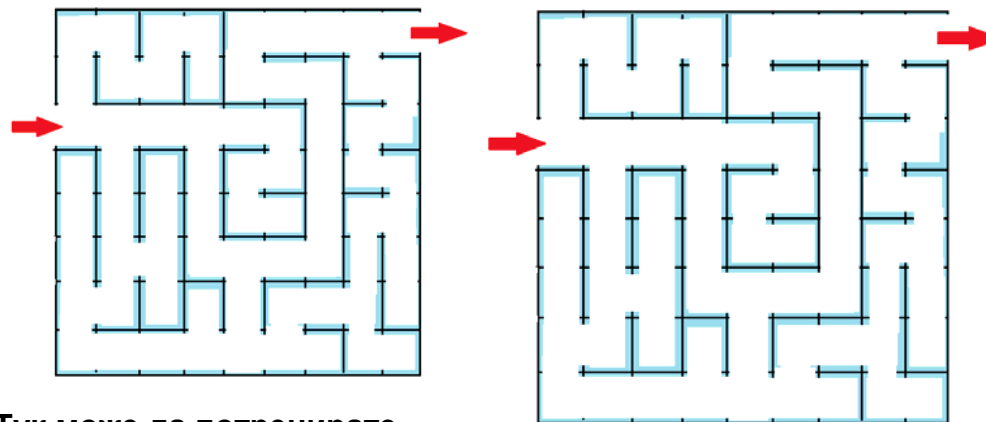
Задача 6. Отговор:



Покажете кои клечки и къде трябва да се преместят.

Запишете полученото вярно равенство: _____

Задача 7. Отговор: Покажете пътя през лабиринта.



Тук може да потренирате

Задача 8. Отг.: Останалият войник се казва _____