



ХVI ОЛИМПИАДА МЛАДШИХ ШКОЛЬНИКОВ

26 февраля 2012г

Младшая группа, 1 класс.

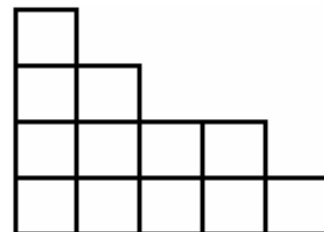
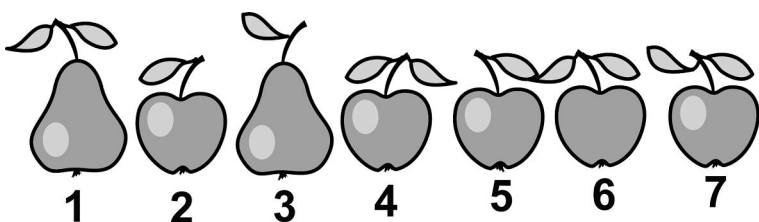


2x2
ТВОРЧЕСКАЯ ЛАБОРАТОРИЯ


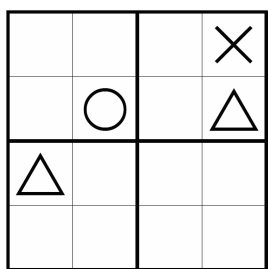
Внимательно прочитайте условия задач. Решать вы можете в любом порядке. Ответы нужно записать на специальном бланке. Не забудьте указать свою фамилию, имя и номер школы.

Задача 1. Мою родную сестру зовут Анна Павловна. Мою маму зовут Светлана Дмитриевна, а моего деда зовут Иван Петрович. Как зовут моего отца?

Задача 2. Разрежьте клетчатую фигурку на рисунке на две одинаковые части.



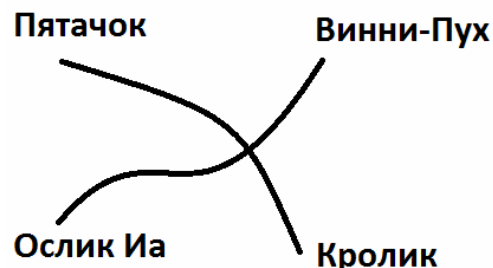
Задача 3. Андрюша фотографировал отражения фруктов в зеркале. А потом одну фотографию потерял. Фотографии какого фрукта нет теперь у Андрюши?



Задача 4. В таблице слева расставьте кружки, треугольники, квадраты и крестики так, чтобы в каждом столбце и каждой строчке, а также в каждом выделенном маленьком квадрате, были все четыре фигуры.

Задача 5. В гонках стартовали три машины в таком порядке: жёлтая, красная, синяя. К финишу они пришли в таком порядке: «Хонда», «Мерседес», «Ауди». При этом ни одна машина не финишировала по счету такой же, как стартовала. Какого цвета марки машин, если «Ауди» не жёлтая?

Задача 6. В Зачарованном Лесу построили дороги (см.рисунок). Оказалось, что по дорогам от Пятачка до Ослика Иа – 7 км, путь от Винни-Пуха до Кролика – 4 км, а от Пятачка до Винни-Пуха – 3 км. Сколько километров придется пройти по дорогам от Иа до Кролика ?



Задача 7. Петя поднимается с 1 этажа на 4 за 4 минуты. А Маша с 4 этажа на 7 – за 3 минуты. Кто из них поднимется быстрее с 1 этажа на 7 и на сколько минут?

Задача 8. Близнецы Миша и Гриша одновременно лгут только в воскресенье. В остальные дни один из них лжет, а другой говорит правду. Миша сказал: «Сегодня воскресенье». Гриша ответил: «Воскресенье завтра». Какой сегодня день недели?