

XXV ОЛІМПІАДА МОЛОДШИХ ШКОЛЯРІВ

6 лютого 2022р

Молодшая група, 2 клас.

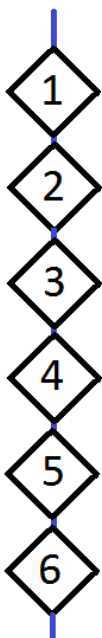
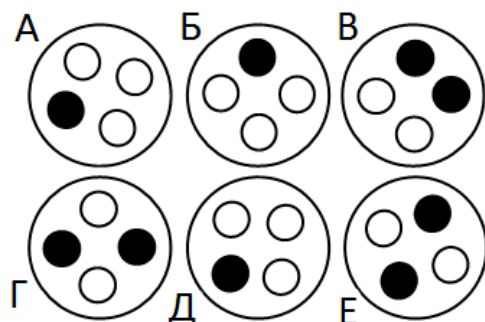


Уважно прочитайте умови задач. Вирішувати їх ви можете в будь-якому порядку. Відповіді та розв'язки потрібно записати на спеціальному бланку.

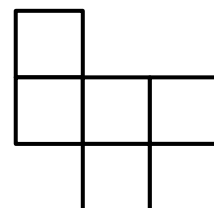
Задача 1. На святкування ювілею довгожителю прийшли привітати його діти, онуки, правнуки, праправнуки... За святковий стіл сіли: Ігор Сергійович, Георгій Михайлович, Тимур Сергійович, Федір Ігорович, Ельдар Тимурович, Сергій Георгійович, Алмаз Сергійович, Ельдар Георгійович і сам ювіляр. Як звати ювіляра, якщо серед усіх його нащадків не було дочок?

Задача 2. Антон та Боря – близнюки. Рівно рік тому вони порахували, скільки їм разом років. Вийшло однозначне число. Сьогодні вони знову порахували, скільки їм разом років, вийшло двозначне число. Скільки років зараз кожному?

Задача 3. В кафе можна купити чорну каву, капучино та лате. Каву продають в однакових склянках із чотирма кружками на кришці. Щоб розрізнити напої автомат зафарбовує якусь кількість кружків. У однакових напоїв малюнок виходить однаковий, у різних – різний. Нікіта купив собі чорну каву, а своїм друзям – два капучино та три лате. Під якою кришкою напій Нікіти?

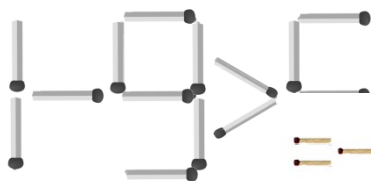
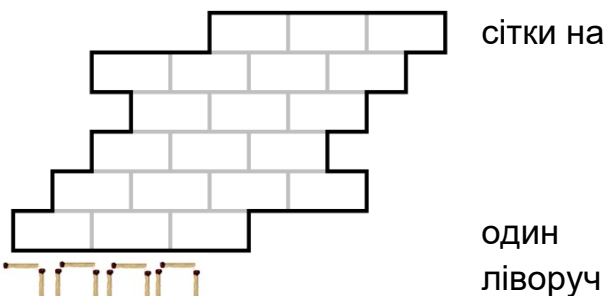


Задача 4. Головоломку – шість квадратиків на мотузці – склали, як на малюнку справа. Вкажіть, як лежать квадратики.



Задача 5. На столі лежали ручки та олівці (всього 7 штук). Кожен із п'яти братів взяв собі 1 або 2 різні предмети. Скільки було ручок, якщо їх було більше, ніж олівців, а наймолодшому братові дістався лише олівець?

Задача 6. Розріжте фігурку по лініях чотири однакові частини.



Задача 7. Перекладіть



Задача 8. У Копатича на городі ростуть червоні помідори, червоні перці, жовті банани, жовті лимони, червоні та жовті яблука. Він виклав у ряд у якомусь порядку помідор, перець, банан, лимон та яблуко. Виявилось, що кольори чергуються, а лимон та перець не поруч. Якого кольору яблуко і що поруч із лимоном, якщо перець не з краю?