

ОЛИМПИАДА МЛАДШИХ ШКОЛЬНИКОВ 10 февраля 2019г

1

N

Младшая группа – 1 класс

1	2	3	4	5	6	7	8	ИТОГ

БЛАНК ДЛЯ ЗАПИСИ ОТВЕТОВ

Фамилия _____ Имя _____

Класс _____ школа _____

ОТВЕТЫ:


Задача 1. П – О = Б – Е = Д – И = Т + Е = Л + И

Ответ. – = – = – = + = +

Задача 2. Ответ. У красного _____ орехов, у зелёного _____ орехов, у синего _____ орехов.

Задача 3. Ответ:

Укажите, куда должен попасть Пятачок




Задача 4. Ответ:

У Алёны лент _____

Задача 5. Ответ:



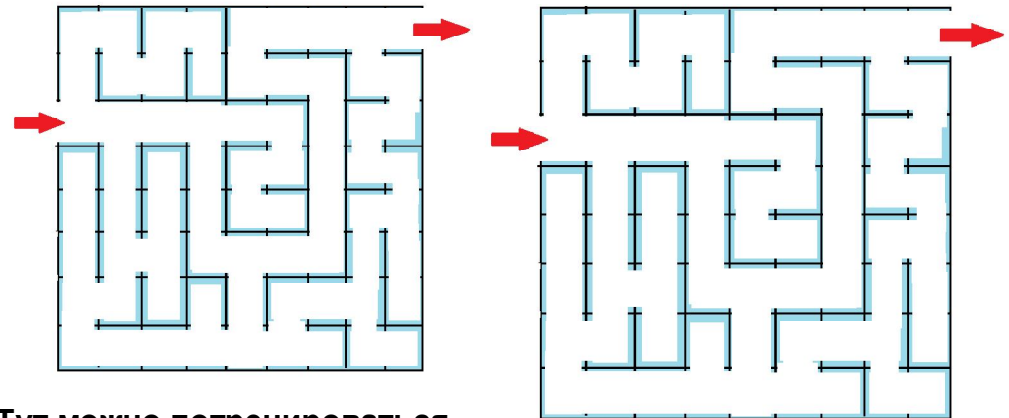
Задача 6. Ответ.



Укажите, какие спички и куда нужно переложить

Запишите полученное верное равенство: _____

Задача 7. Ответ. Укажите нужный путь через лабиринт



Тут можно потренироваться

Задача 8. Ответ. оставшегося солдата зовут _____