

1

N

Младшая группа – 1 класс

1	2	3	4	5	6	7	8	ИТОГ

**БЛАНК ДЛЯ ЗАПИСИ ОТВЕТОВ**

Фамилия \_\_\_\_\_ Имя \_\_\_\_\_

Класс \_\_\_\_\_ школа \_\_\_\_\_

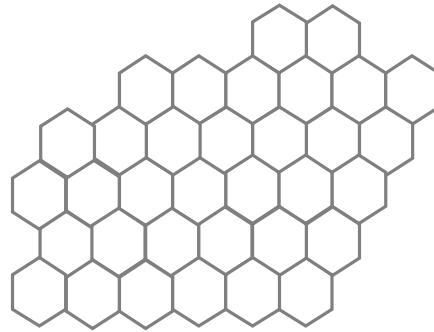
**ОТВЕТЫ:**

Задача 1. Ответ: Близнецов зовут \_\_\_\_\_ и \_\_\_\_\_

Задача 2. Ответ: Нужно поменять местами: \_\_\_\_\_ и \_\_\_\_\_

**О Л И М П И А Д А**

Задача 3. Ответ:



Задача 4. Ответ:

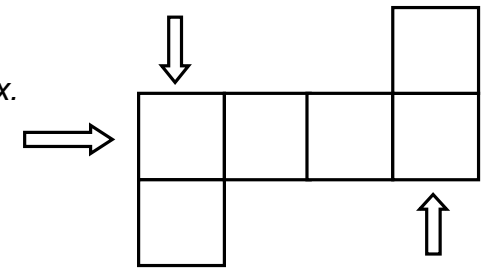
●	🌲	🌲	●		🌲
🌲		●			🌲
		🌲			●
	🌲				🌲
		●	🌲		

А) Обведите кружком те ёлки, что не освещены.

Б) Отметьте крестиком те ёлки, что освещены ровно двумя прожекторами.

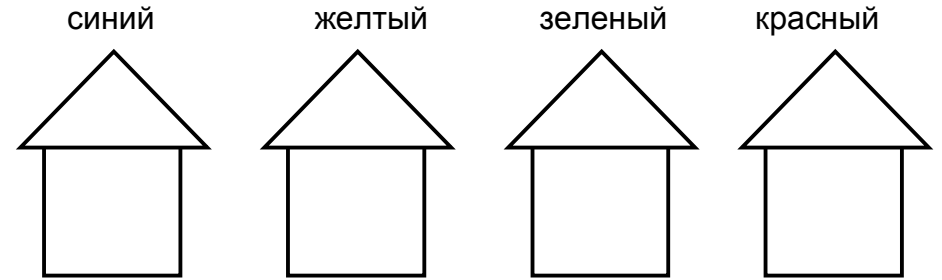
Задача 5. Ответ:

Нарисуйте точки на доминошках.



Задача 6. Ответ: Получилось \_\_\_\_\_ кусочков, полностью черных с обеих сторон.

Задача 7. Ответ:



Задача 8. Ответ:

Раньше всех прошел \_\_\_\_\_

Вторым прошел \_\_\_\_\_

Третьим прошел \_\_\_\_\_

Тут можно потренироваться

