

2

N

Младшая группа – 2 класс

1	2	3	4	5	6	7	8	ИТОГ

**БЛАНК ДЛЯ ЗАПИСИ РЕШЕНИЯ**

Фамилия \_\_\_\_\_ Имя \_\_\_\_\_

Класс \_\_\_\_\_ школа \_\_\_\_\_

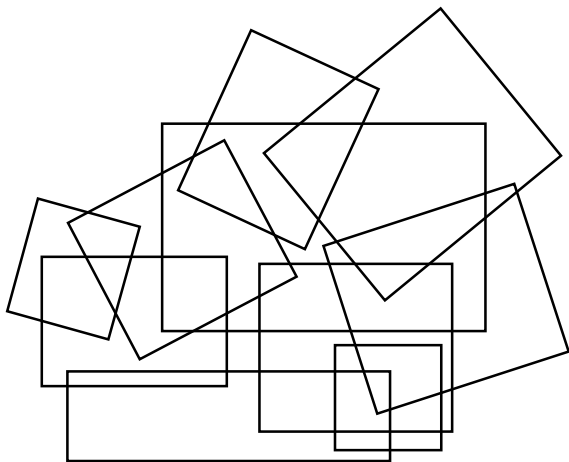
**ОТВЕТЫ И РЕШЕНИЯ:**

Задача 1.  $O \cdot Л = И + М = П + И + А = Д \cdot А$ .

Ответ.  $\square \cdot \square = \square + \square = \square + \square + \square = \square \cdot \square$

Задача 2. Ответ.


Укажите, куда должен попасть Майк



Задача 3. Ответ. Самая тяжелая – \_\_\_\_\_ монета, средняя – \_\_\_\_\_ монета, легкая – \_\_\_\_\_ монета.



Потому, что \_\_\_\_\_

Задача 4. Ответ. Отметьте дом Пьеро буквой П, дом Мальвины – буквой М.

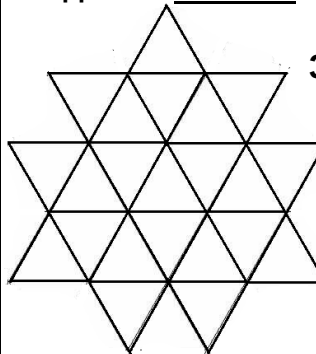


Если есть еще вариант, укажите его на втором рисунке

Задача 5. Ответ.



Задача 6. Ответ.



Задача 7. Ответ. Это число \_\_\_\_\_, потому что

\_\_\_\_\_

\_\_\_\_\_

\_\_\_\_\_

\_\_\_\_\_

Задача 8. Ответ. На столе осталась фигура \_\_\_\_\_  
(при необходимости можно писать на обороте)