

2

N

Младшая группа – 2 класс

1	2	3	4	5	6	7	8	ИТОГ

БЛАНКА ЗА РЕШЕНИЯ

Име _____ Фамилия _____

Клас _____ Училище _____

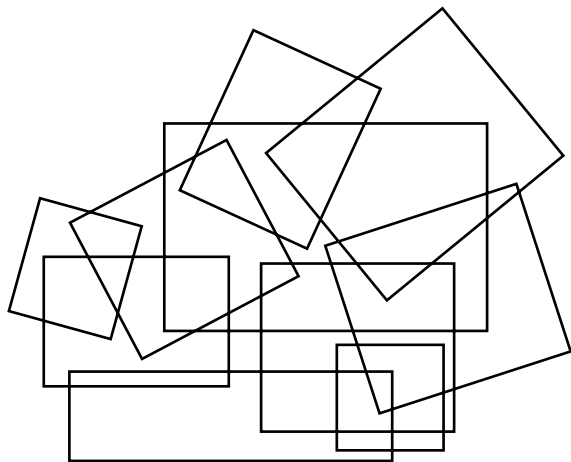
ОТГОВОРИ И РЕШЕНИЯ:

Задача 1. $O \cdot Л = И + М = П + И + А = Д \cdot А$.

Отг.: $\square \cdot \square = \square + \square = \square + \square + \square = \square \cdot \square$

Задача 2. Отговор:


Покажете къде трябва да попаднат стреличките на Майк.



Задача 3. Отг. Най-тежка е _____ монета, средна е _____ монета, най-лека е _____ монета,



защото _____

Задача 4. Отг. Отбележете дома на Пиеро с буква П, а дома на Малвина – с буква М.

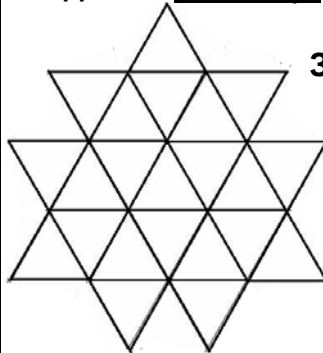


Ако има и друг вариант, покажете го на втората рисунка.

Задача 5. Отговор:



Задача 6. Отговор:



Задача 7. Отг. Това е числото _____, защото

Задача 8. Отг. На масата е останала _____ фигура. (при необходимост може да пишете на гърба на листа)