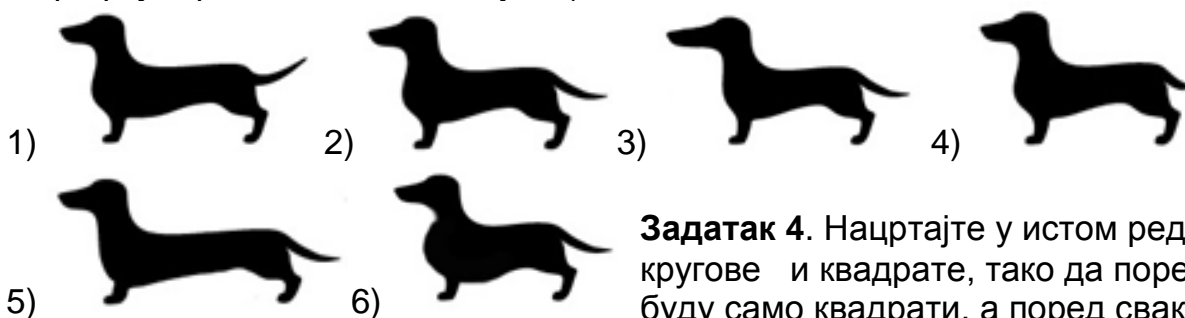


Задатак 1. Тане, Мане и Ана имају данас укупно 12 година. Колико ће они укупно имати година за 2 године?

Задатак 2. Све цифре броја 798 су различите. Нађи број најближи том броју који има исту особину.

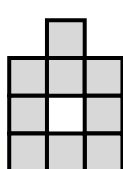
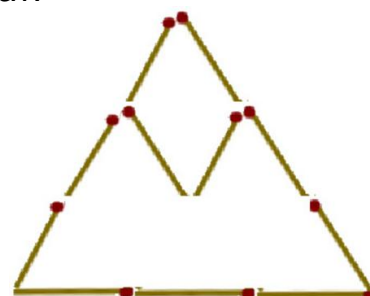
Задатак 3. Петар је довео свог пса, јазавичара Дину, на изложбу паса. Он је фотографисао псе у редоследу у ком су се пласирали на такмичењу. Које место је заузела Дина? (Петар је фотографисао насупрот Сунцу, и зато је на фотографији приказана само силуета).

ДИНА

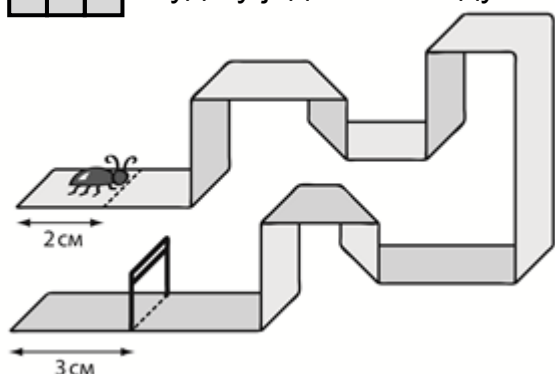


Задатак 4. Нацртајте у истом реду 10 фигура – кругове и квадрате, тако да поред сваког круга буду само квадрати, а поред сваког квадрата нека буду и круг и квадрат.

Задатак 5. Игор је успео да од шибица направи планинину и снежни врх на планини (погледај слику). Преместите 2 шибице тако да на новом цртежу буде тачно 3 троугла. (Све шибице треба да буду употребљене.)



Задатак 6. Ване је добио занимљиву чоколаду која има 9 делића као на слици. Он жели да одломи (и поједе) парче чоколаде које има 2 делића, али тако да остатак буде у једном комаду. На колико начина он то може да уради?



Задатак 7. По траци дугачкој 1 метар пузи буба (као на цртежу). Она почиње да пузи почев од позиције која је удаљена 2 см од једног краја траке и пузи строго по средини траке, и не враћа се по путањи коју је већ прошла. Нађите дужину пута коју ће прећи буба, ако знате да ће крај путање пузања бити вратанца која су удаљена 3 см од другог краја траке (како је приказано на цртежу).

Задатак 8. Васа, Гриша и Дима су се тркали користећи плаве, црвене и жуте аутомобилчиће. Димин аутомобилчић завршио је трку одмах после жутог аутомобилчића, а црвени аутомобилчић – одмах након Васиног аутомобилчића. Напишите име дечака чији аутомобилчић је стигао први (и боје тог аутомобилчића) ако знате да то није био Гришин аутомобилчић.