

XX ОЛІМПІАДА МОЛОДШИХ ШКОЛЯРІВ

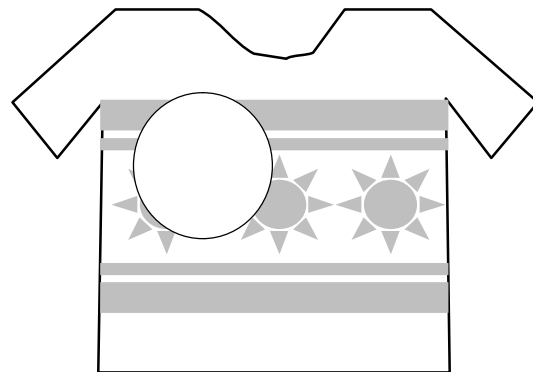
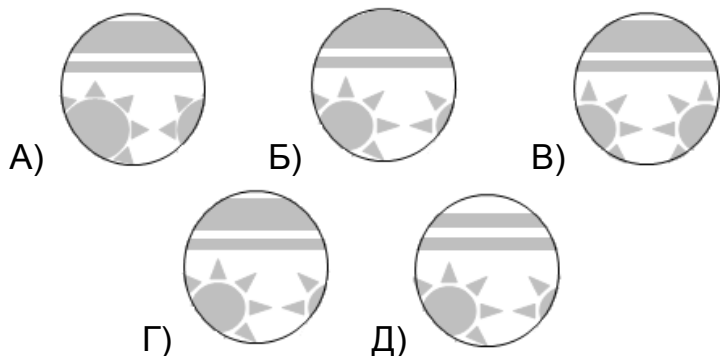
28 лютого 2016р

Молодша група, 1 клас.




Уважно прочитайте умови задач. Розв'язувати ви можете в будь-якому порядку.
Відповідь потрібно записати на спеціальному бланку.

Задача 1. Моль проїла в светрі велику дірку. Баба Маня сплела декілька латочок. Яка з них підійде для ремонту светра?

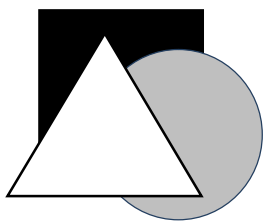


Задача 2. У мене є три друга: Антон, Боря та Микола. Вчора я грав з Борей і Антоном. Одному з них 8 років, а іншому 9 років. А сьогодні я гуляв з Антоном і Миколою. Одному з них 10 років, а іншому 8 років. Скільки років кожному з моїх друзів?


Задача 3. Замість зірочок поставте якісь цифри, щоб вийшла правильна рівність $2* - * - * = 3$



Задача 4. У клітинці дошки сидить жук (як на малюнку). Він проповз через ще 2 клітини, а на третій зупинився. Вкажіть, в якій клітині він міг опинитись.



Задача 5. Кавун розрізали трьома прямими розрізами так як на малюнку. Скільки отримали корок після того, як кавун з'їли?



Задача 6. Вася, Гоша та Казимир, намалювали масляними фарбами білий трикутник, сірий круг і чорний квадрат (кожен хлопчик намалював одну фігуру). Відомо, що Вася малював пізніше Казимира, і фігура Васи не біла. Хто яку фігуру намалював?

Задача 7. Діти придумали складати з сірників цифри:



Аня виклала неправильну рівність. Перекладіть 2 сірники, щоб рівність стала вірною:



Задача 8. Троє друзів Тихон, Єгор і Віталік помінялися іграшками. Віталік почав грати пожежною машиною. Господарю самоскида сподобався екскаватор. А самоскид взяв господар пожежної машини. Визначте, яка іграшка чия, якщо відомо, що пожежна машина не Тихона.