



XX ОЛИМПИАДА МЛАДШИХ ШКОЛЬНИКОВ

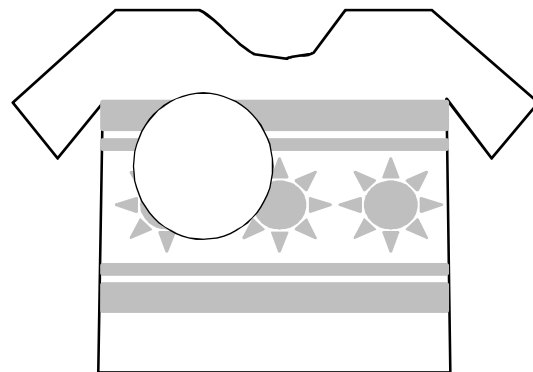
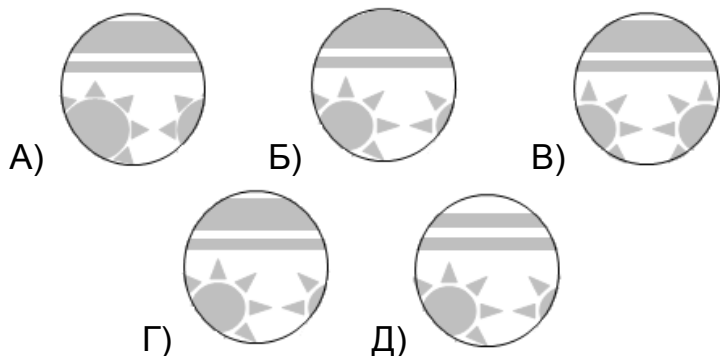
28 февраля 2016г

Младшая группа, 1 класс.



Внимательно прочитайте условия задач. Решать вы можете в любом порядке.
Ответ нужно записать на специальном бланке.

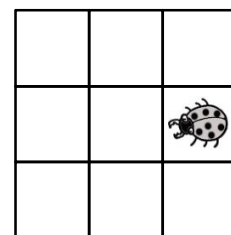
Задача 1. Моль проела в свитере большую дырку. Баба Маня связала несколько заплаток. Какая из них подойдёт для починки свитера?



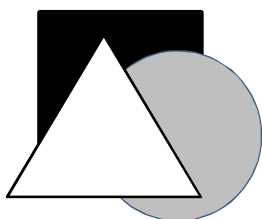
Задача 2. У меня есть три друга: Антон, Боря и Коля. Вчера я играл с Борей и Антоном. Одному из них 8 лет, а другому 9 лет. А сегодня я гулял с Антоном и Колей. Одному из них 10 лет, а другому 8 лет. Сколько лет каждому из моих друзей?

Задача 3. Вместо звёздочек поставьте какие-нибудь цифры, чтобы

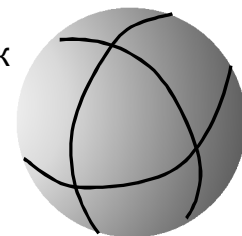
получилось верное равенство $2* - * - * = 3$



Задача 4. В клетке доски сидит жук (как на рисунке). Он прополз через ещё 2 клетки, а на третьей остановился. Укажите, в какой клетке он мог оказаться.



Задача 5. Арбуз разрезали тремя прямыми разрезами так как на рисунке. Сколько получилось корок после того, как арбуз съели?




Задача 6. Вася, Гоша и Казимир, нарисовали масляными красками белый треугольник, серый круг и чёрный квадрат (каждый ребёнок нарисовал одну фигуру). Известно, что Вася рисовал позже Казимира, и фигура Васи не белая. Кто какую фигуру нарисовал?

Задача 7. Дети придумали складывать из спичек цифры:



Аня выложила неверное равенство. Переложите 2 спички, чтобы равенство стало верным:



Задача 8. Трое друзей Тихон, Егор и Виталик поменялись игрушками. Виталик стал играть пожарной машиной. Хозяину самосвала приглянулся экскаватор. А самосвал взял хозяин пожарной машины. Определите, какая игрушка чья, если известно, что пожарная машина не Тихона.